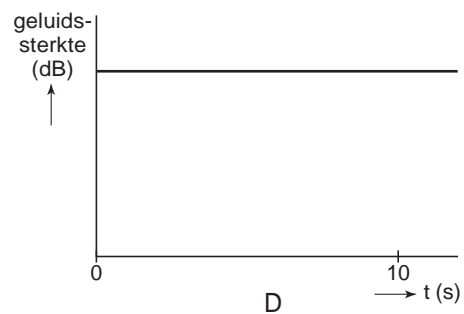
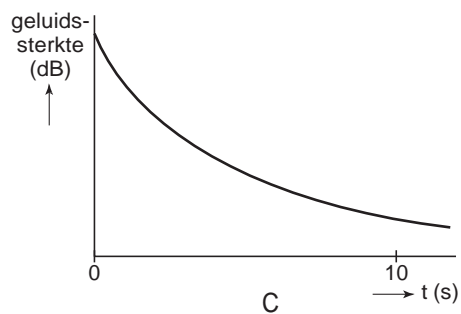
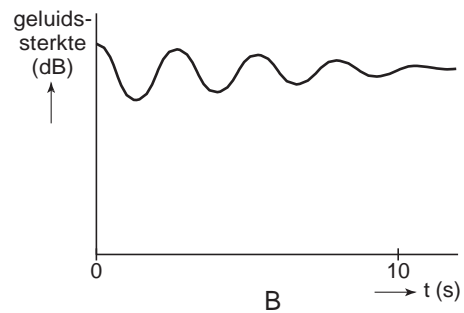
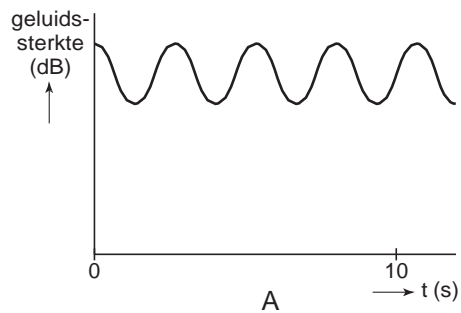


STEMVORK

- 1p • 24 Annie slaat tegen een stemvork aan, die daardoor begint te trillen.
Hieronder staan vier grafieken waarin de geluidssterkte is uitgezet tegen de tijd.



Welke van de vier grafieken geeft het beste de geluidssterkte van de trillende stemvork weer?

- A grafiek A
- B grafiek B
- C grafiek C
- D grafiek D